



2018-2019

EĞİTİM-ÖĞRETİM YILI

BİTLİS/GÜROYMAK

YUNUS EMRE İLKOKULU

4.SINIFLAR KAZANIM

DEĞERLENDİRME SINAVI

ADI:

SOYADI:

SINIFI :

NUMARASI:



TÜRKÇE SINAVI



Pazar günü iki köy arasında at koşu yarışları yapılacaktı. Birincilik için en büyük aday Kara Bomba isimli attı. İki yıldır yapılan yarışmaların tek ve mutlak hâkimiydi. Simsiyah rengi, kocaman gözleri ve dev gibi uzun boyuyla o her zaman atların en irisiydi. Daha uzun bir süre birinciliği kaptırmayacağı tahmin ediliyordu. Diğer yarışmacı atlar ise, Fırtına, Pençe ve Yekta idi. Yekta, böyle bir yarışa ilk defa katılıyordu, oldukça heyecanlıydı. Gerçi yetiştirildiği yarış atı çiftliğinde çok iyi hazırlanmıştı, fakat genç ve tecrübesiz oluşu onu korkutuyordu. Ya birinci olamazsa? Böyle bir şeyi düşünmek bile istemiyordu. O zaman, sıradan bir yarış atı durumuna düşecek ve belki bu durum hep böyle sürüp gidecekti.

*** 1,2 ve 3. Soruları yukarıdaki metne göre cevaplayınız.

Soru1: Yarışmada yarışacak olan atlar hangileridir?

- A) Fırtına, Pençe, Yekta
- B) Fırtına, Yekta
- C) Kara Bomba, Fırtına, Pençe, Yekta
- D) Kara Bomba

Soru2: Aşağıdakilerden hangisi Kara Bomba'nın fiziksel özelliklerinden birisi değildir?

- A) Simsiyah Rengi
- B) Uzun Boyu
- C) Kocaman Gözleri
- D) Sıksa Vücudu

Soru3: Aşağıdakilerden hangisi Yekta'nın korkmasının nedeni nedir?

- A) Heyecanlı olması
- B) İyi hazırlanmış olması
- C) Tecrübesiz olması
- D) Sıradan yarış atı olması

Yürek	1	a	Güçlü
Hasret	2	b	Yanıt
Kuvvetli	3	c	Kalp
Cevap	4	d	Özlem

Soru4: Yukarıda verilen eş anlamlı kelimelerin eşleştirilmesi hangi seçenekte doğru verilmiştir?

- A) 1-c
 - B) 1-c
 - C) 1-d
 - D) 1-d
- 2-a
 - 2-d
 - 2-b
 - 2-a
- 3-d
 - 3-a
 - 3-c
 - 3-b
- 4-b
 - 4-b
 - 4-a
 - 4-c

Soru5: "Ayşe, haklarının yenmesine dayanamayarak cesurca itiraz etti."

Yukarıdaki cümlede verilen altı çizili sözcüğün zıt anlamlısı aşağıdaki cümlelerden birinde verilmiştir?

- A) Ahmet çok yürekli bir çocuktur.
- B) Eve hırsız girince büyük bir korku yaşadı.
- C) Fil çok güçlü bir hayvandır.
- D) Vombat isimli hayvan hiç cesur değildir.

Cevapları kontrol ettikten sonra diğer sayfaya geçiniz.



Derya () sabahın erken saatlerinde evden çıkmıştı. Okula doğru giderken yolda öğretmeni ile karşılaştı() Öğretmenine yaklaşıp sohbeti başladılar()

- Günaydın Öğretmenim
- Günaydın Ayşe, nasılsın
- İyiyim, teşekkür ederim öğretmenim siz nasılsınız?
- İyiyim, teşekkür ederim. Ödevlerini yaptın mı()
- Evet öğretmenim yaptım.

Soru6: Yukarıdaki metinde parantez() içinde boş bırakılan yerlere sırasıyla hangi soru işareti gelmelidir?

- A) (,) (.) (:) (?) B) (.) (.) (:) (!)
- C) (,) (:) (.) (.) D) (.) (.) (.) (?)

Soru7: Aşağıdaki cümlelerin hangisi mecaz anlama sahip bir cümle değildir?

- A) Bu arabaya bayıldım.
- B) Yalan söyleyince gözümden düştü.
- C) Çok acı bir olay yaşadı.
- D) Balon bir anda patladı.

Soru8: Aşağıdaki cümlelerin hangisinde hayali bir ifade kullanılmamıştır?

- A) Her gece yıldızlarla sohbet ederim.
- B) Karınca sırtında bir fülle yola çıkmıştı.
- C) Girdiği 15 sınavda birinci oldu.
- D) Amcam büyük bir fili tek eliyle havaya kaldırdı.

Soru9: Aşağıdaki cümlelerin hangisinde nesnel bir ifadeye yer verilmiştir?

- A) En güzel renk sarıdır.
- B) 4/B sınıfında 28 öğrenci vardır.
- C) Kedi, çok tatlı bir hayvandır.
- D) En güçlü takım Galatasaray

Soru10: Aşağıdaki kelimelerden hangisi Büyük Ünlü Uyumuna uyan bir kelimedir?



A)



B)



C)



D)

YUNUS EMRE İLKOKULU

Cevapları kontrol ettikten sonra diğer sayfaya geçiniz.





MATEMATİK TESTİ



BITLİS

Nüfus: 341.747

Rakım: 1500

Soru1: Yukarıda verilen tabela da Bitlis ilinin nüfusunun okunuşu nedir?

- A) Üç yüz kırk iki bin yedi yüz kırk iki
B) Yedi yüz kırk yedi bin üç yüz kırk bir
C) Üç yüz kırk bir bin yedi yüz kırk yedi
D) Üç yüz kırk bin yedi yüz yedi

İşlem	Sayı	Cevabı
Onluğa Yuvarlama	5326	
Yüzlüğe Yuvarlama	14875	

Soru2: Tabloda bulunan ve sırasıyla ne gelmelidir?

- A) 5320 14900 C) 5330 14800
B) 5330 14900 D) 5320 14800

- A = 225.458
- B = 532. 548
- C = 352.485

Soru3: Yukarıda verilen sayılara göre aşağıdaki sıralamalardan hangisi doğru olarak verilmiştir?

- A) $A < C < B$ B) $C < A < B$ C) $B < C < A$ D) $A < B < C$

3	4	6	9	13	?	24
---	---	---	---	----	---	----

Soru4: Yukarıdaki örüntüye göre “?” yerine ne gelmelidir?

- A) B) C) D)

YUNUS EMRE İLKOKULU

	7	8		5
	3		9	0
<hr/>				
1	0	9	7	5

Soru5: Toplama işleminde verilmeyen ve toplamı kaçtır?

- A) 3 B) 8 C) 9 D) 18

Cevapları kontrol ettikten sonra diğer sayfaya geçiniz.



Soru6: Bir fabrikadan iki tane kumaş dolu kamyon çıkmıştır. Birinci çıkan kamyonunda 4375 m kumaş varken ikinci kamyonunda ise birinci kamyonundan 500 m fazla kumaş vardır. İki kamyondaki kumaşlar toplam kaç metredir?

- A) 4800 B) 4875 C) 9250 D) 9500

Soru7: Aşağıdaki çıkarma işleminin sonucu kaçtır?

	7	0	1	4
<u> </u>	3	5	6	9

- A) 3445 B) 3455 C) 3545 D) 4445

Soru8: Ayşe Hanım, çalıştığı iş yerinden her ay düzenli maaş almaktadır. Birinci ay 3467 TL alırken ikinci ay ise birinci aydan 589 TL eksik almıştır. Ayşe Hanım'ın ikinci ay aldığı maaş kaçtır?

- A) 2878 B) 2978 C) 3122 D) 3488

3	5	7
	2	8



	C		
		B	



	A		
--	---	--	--

Soru9: Yukarıda verilen çarpma işleminde bulunan A, B ve C yerine gelecek sayıların toplamı kaçtır?

- A) 18 B) 19 C) 20 D) 21

Soru10: Her ay evine 550 TL'lik mutfak masrafı yapan Mesut Bey bir yılda toplam kaç TL mutfak harcaması yapmıştır?

- A) 6000 B) 6200 C) 6400 D) 6600

YUNUS EMRE İLKOKULU

Cevapları kontrol ettikten sonra diğer sayfaya geçiniz.





FEN BİLİMLERİ TESTİ



Geçmişte yaşamış canlıların taşlaşmış kalıntılarına veya izlerine denir.

1

A) Maden

Yer kabuğunun derinliklerinde çeşitli doğal etkenlerle oluşan ekonomik değeri olan kayalara denir.

2

B) Kayaç

Yer kabuğunun en üst katmanını oluşturan toprak, kaya ve taş parçalarına denir.

3

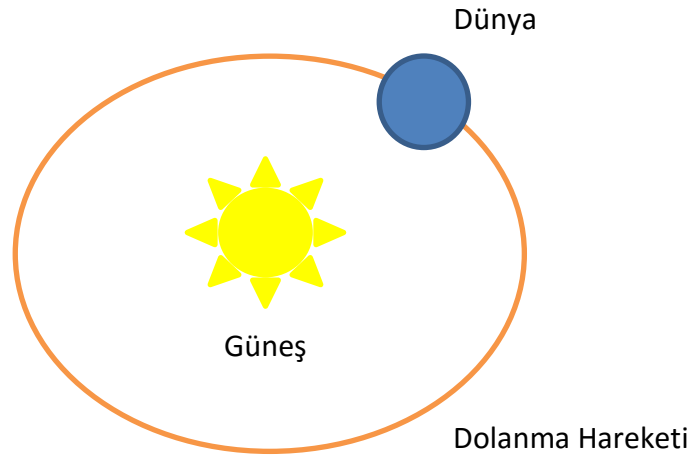
C) Fosil

Soru1: Yukarıda verilen tanımlar ve kavramların eşleştirilmesi hangi seçenekte doğru olarak verilmiştir?

- A) 1-C B) 1-A C) 1-B D) 1-C
2-A 2-B 2-A 2-B
3-B 3-C 3-C 3-A

Soru3: Dünya'nın dönme hareketi ile ilgili verilenlerden hangisi yanlıştır?

- A) Dünya dönme hareketini 24 saatte tamamlar.
B) Dünya dönme hareketini tamamladığında mevsim değişir.
C) Dünya'nın dönme hareketi sırasında gece ve gündüz oluşur.
D) Dünya'nın dönme hareketini tamamlamasına günlük hareket denir.



Soru4: Yukarıda verilen şekilde dünya hareketini ne kadar sürede tamamlar?

- A) 24 Saat B) 7 gün C) 1 ay D) 365 gün 6 saat

1. Termometre yapımında cıva kullanılır.
2. Altın, kuyumculuk malzemesi üretiminde kullanılır.
3. Mermer mutfak tezgâhı yapımında kullanılır.

Soru2: Yukarıda verilenlerden hangisi doğrudur?

- A) Yalnız 2
B) 1 ve 2
C) 2 ve 3
D) 1,2 ve 3

- Dünya, doğudan doğar ve batıdan batar.
- Dünya'nın, Güneş etrafında turunu tamamlamasına günlük hareket denir.
- Dünya, Güneş etrafında dönüşünü tamamladığında yıl değişir.
- Dünya'nın yüzü güneşe dönük tarafında gece yaşanır.

Soru5: Yukarıdaki cümlelerden kaç tanesi doğrudur?

- A) Hiçbiri B) 1 C) 2 D) 3



Cevapları kontrol ettikten sonra diğer sayfaya geçiniz.



Soru6: Aşağıda verilen cümlelerden hangisi canlıların beslenmesi ile ilgili yanlış bir bilgi vermektedir?

- A) Canlılar büyümek ve gelişmek için besin alırlar.
- B) Vücudumuzdaki yaraların çabuk iyileşmesi için besine ihtiyacımız vardır.
- C) Tüm canlıların gelişmesi için et yemesi gerekir.
- D) Canlıların tükettiği besinler hayvansal ve bitkisel olmak üzere ikiye ayrılır.

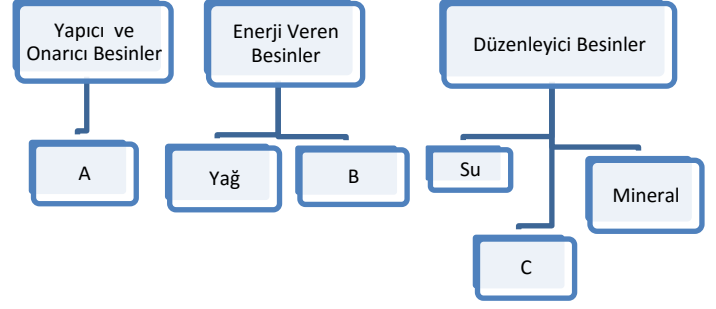
Soru7: Aşağıdaki besinlerden hangisi karbonhidratlı bir besin değildir?



1. Son Kullanma Tarihini
2. TSE damgasını
3. Ürünün pahalı olmasını

Soru8: Bir ürünü alırken sağlığımızı etkileyebilecek olan durumun olup olmayacağını anlamak için hangilerini kontrol etmeliyiz?

- A) Yalnız 1 B) Yalnız 2 C) 1 ve 2 D) 1,2 ve 3

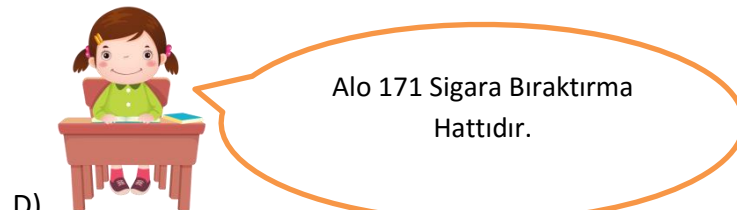
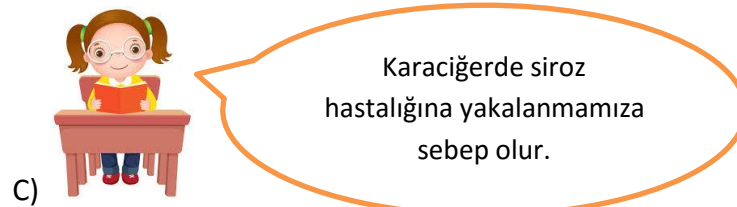
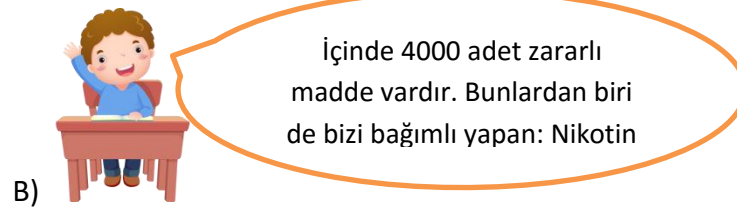
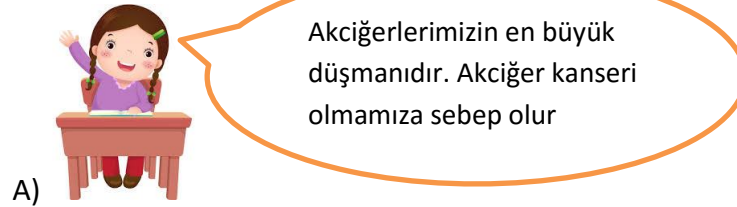


Soru9: Tabloda A,B ve C harflerinin yerine sırasıyla ne gelmelidir?

A)	A: Protein	B: Karbonhidrat	C: Vitamin
B)	A: Vitamin	B: Karbonhidrat	C: Protein
C)	A:Karbonhidrat	B:Vitamin	C: Protein
D)	A: Protein	B: Vitamin	C:Karbonhidrat

YUNUS EMRE İLKOKULU

Soru10: Aşağıdaki cümlelerin hangisinde sigara ile ilgili doğru olmayan bir ifade vardır?



Cevapları kontrol ettikten sonra diğer sayfaya geçiniz.





SOSYAL BİLGİLER TESTİ



Soru1: Yukarıda verilen kimlik belgelerinde (nüfus cüzdanı) kişinin bulabileceğimiz bilgilerden değildir?

- A) Doğum Yeri B) Medeni Hali C) Mesleği D) Dini

1

•24 Nisan 2009 tarihinde doğdum.

2

•15 Temmuz 2015 tarihinde kolumu kırdım.

3

•17 Eylül 2014 yılında 1.sınıfa başladım.

4

•20 Haziran 2010 tarihinde yürümeye başlıyorum.

Soru2: Yukarıdaki tarihler dikkate alındığında kronolojik sıra aşağıdaki seçeneklerin hangisinde doğru verilmiştir?

- A) 2-3-4-1
B) 1-2-3-4
C) 4-3-2-1
D) 1-4-3-2

Soru3: Kendini başkasının yerine koymaya ne denir?

- A) Empati B) Sorumluluk C) Dürüstlük D) Hoşgörü

Soru4: Sözlü tarih ile ailemizin tarihini öğrenirken hangisi ile iletişim kurmamız daha çok işimize yarar?

- A) Teyze
B) Anneanne
C) Anne
D) Dayı

Soru5: Hangisi milli kültürümüze ait değildir?



A)



B)



C)

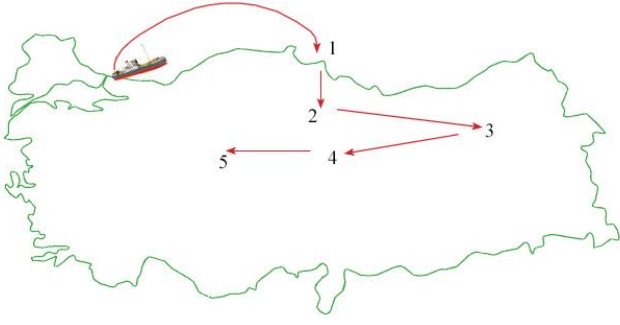


D)

YUNUS EMRE İLKOKULU

Cevapları kontrol ettikten sonra diğer sayfaya geçiniz.





Soru6: Milli Mücadelenin hareket haritasında verilen sayıların yerine hangileri gelmelidir?

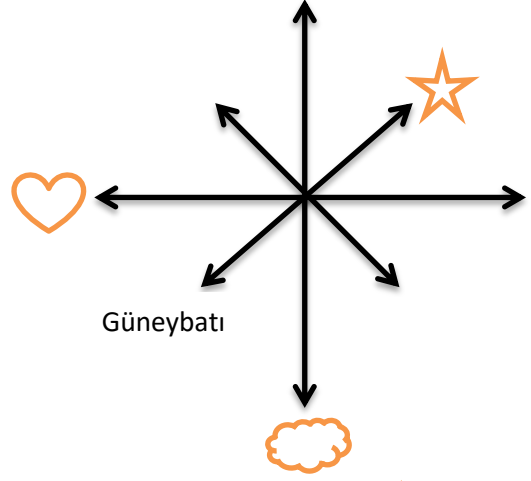
	1	2	3	4	5
A)	Erzurum	Sivas	Ankara	Samsun	Amasya
B)	Samsun	Amasya	Erzurum	Sivas	Ankara
C)	Amasya	Sivas	Samsun	Erzurum	Ankara
D)	Samsun	Amasya	Sivas	Erzurum	Ankara




Soru7: Aşağıdaki milli mücadele kahramanlarından hangisi Antep ve çevresinde Fransızlara karşı olan direnişte değildir?




A) 	Yörük Ali	B) 	Şahin Bey
C) 	Sütçü İmam	D) 	Ali Saip Bey

S8) Aşağıdaki seçeneklerin hangisinde milli mücadelenin doğu ve batı cephesi komutanları doğru verilmiştir?

Doğu Cephesi Komutanı	Batı Cephesi Komutanı
A) Mareşal Fevzi Çakmak	İsmet İnönü
B) Kâzım Karabekir	İsmet İnönü
C) Kâzım Karabekir	Mareşal Fevzi Çakmak
D) İsmet İnönü	Kâzım Karabekir



Soru9: Yukarıda verilen şekilde ,  ve  yerine hangi yönler gelmelidir?

		
A) Kuzeydoğu	Güney	Doğu
B) Güneydoğu	Kuzey	Batı
C) Kuzeydoğu	Güney	Batı
D) Kuzeybatı	Güney	Doğu

YUNUS EMRE İLKOKULU

- Kutup Yıldızı
- Ağaçların yosun tutan tarafı
- Karınca yuvalarının ağız kısmı
- Pusulanın kırmızı işaretli yönü

Soru10: Yukarıdaki yön bulma yöntemlerinden kaç tanesi kuzeyi bulmamıza yardım eder?

- A)1
B)2
C)3
D)4

Cevapları kontrol ettikten sonra diğer sayfaya geçiniz.

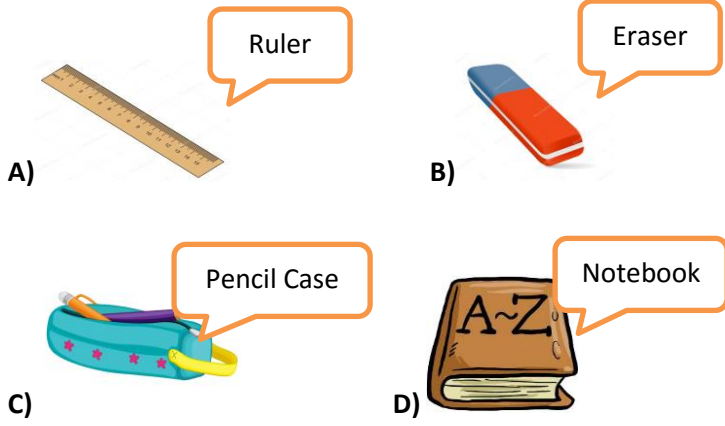




İNGİLİZCE TESTİ



Soru1: Aşağıdaki verilen eşleştirmelerden hangisi yanlıştır?



Soru2: Cevaba hangi soru yazılmalıdır?

- A) How old are you?
B) Where are you from?
C) Is she from Italy?
D) Are you from England?



Soru3: Resme göre boşluğa gelebilecek seçenek hangisidir?

- A) Eighty-five
B) Five-eight
C) Fifty-eight
D) Fifteen-eight

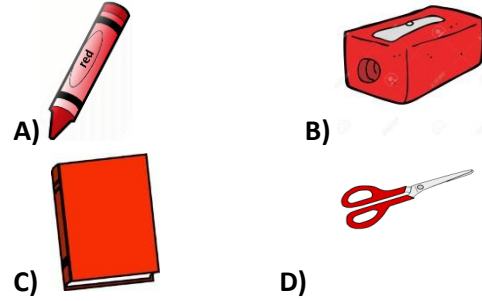


Soru4: Yukarıdaki konuşma balonunda geçen ★ ve ♥ yerine ne gelmelidir?

	★	♥
A)	Spain	Europe
B)	Russia	Asia
C)	The USA	North America
D)	China	Asia

Soru5: Aşağıda verilen ifadede söylenen resmi işaretleyiniz.

"Please, give me your red crayon"



Soru6: Yukarıdaki toplama işleminin sonucu kaçtır?

- A) Fifty-One B) Six-One C) Sixty-One D) Sixteen-one





Cevapları kontrol ettikten sonra diğer sayfaya geçiniz.

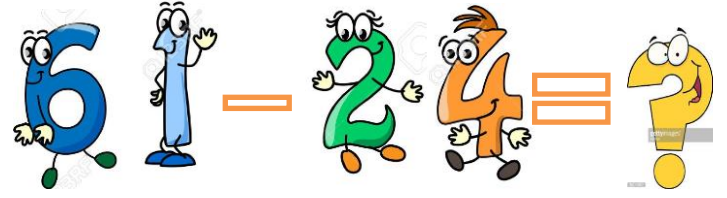


Soru7: Karşılıklı konuşmaya uygun gelen resim hangisidir?

A: Where is he from?

B: He is from Germany

- A) 
- B) 
- C) 
- D) 



Soru9: Yukarıdaki çıkarma işleminin sonucu kaçtır?

- A) Seventy-three
B) Three-seven
C) Thirty-Seven
D) Seventeen-three





Soru10: Eşleştirmelerden hangisi yanlıştır?



Soru8: Resimdeki boşluğa ne gelmelidir?

- A) France B)England C) Mexico D)The USA

YUNUS EMRE İLKOKULU

- A)  Spain
- B)  Japan
- C)  Italy
- D)  The USA

Cevapları kontrol ettikten sonra diğer sayfaya geçiniz.



SINAV:
ADI SOYADI:
DERS:

NUMARA:
SINIF:

NUMARA

0	0	0	0	0
1	1	1	1	1
2	2	2	2	2
3	3	3	3	3
4	4	4	4	4
5	5	5	5	5
6	6	6	6	6
7	7	7	7	7
8	8	8	8	8
9	9	9	9	9

SINIF

0
1
2
3
4
5
6
7
8
9
10
11
12
Hız

ŞUBE

A
B
C
C
D
E
F
G
G
H
I
I
J
J
K
L
M
N
N
O
O
P
R
R
S
S
T
U
Ü
V
Y
Z

AD

A	A	A	A	A	A	A	A	A	A
B	B	B	B	B	B	B	B	B	B
C	C	C	C	C	C	C	C	C	C
C	C	C	C	C	C	C	C	C	C
D	D	D	D	D	D	D	D	D	D
E	E	E	E	E	E	E	E	E	E
F	F	F	F	F	F	F	F	F	F
G	G	G	G	G	G	G	G	G	G
G	G	G	G	G	G	G	G	G	G
H	H	H	H	H	H	H	H	H	H
I	I	I	I	I	I	I	I	I	I
I	I	I	I	I	I	I	I	I	I
J	J	J	J	J	J	J	J	J	J
K	K	K	K	K	K	K	K	K	K
L	L	L	L	L	L	L	L	L	L
M	M	M	M	M	M	M	M	M	M
N	N	N	N	N	N	N	N	N	N
O	O	O	O	O	O	O	O	O	O
O	O	O	O	O	O	O	O	O	O
P	P	P	P	P	P	P	P	P	P
R	R	R	R	R	R	R	R	R	R
R	R	R	R	R	R	R	R	R	R
S	S	S	S	S	S	S	S	S	S
S	S	S	S	S	S	S	S	S	S
T	T	T	T	T	T	T	T	T	T
U	U	U	U	U	U	U	U	U	U
Ü	Ü	Ü	Ü	Ü	Ü	Ü	Ü	Ü	Ü
V	V	V	V	V	V	V	V	V	V
Y	Y	Y	Y	Y	Y	Y	Y	Y	Y
Z	Z	Z	Z	Z	Z	Z	Z	Z	Z

SOYAD

A	A	A	A	A	A	A	A	A	A
B	B	B	B	B	B	B	B	B	B
C	C	C	C	C	C	C	C	C	C
C	C	C	C	C	C	C	C	C	C
D	D	D	D	D	D	D	D	D	D
E	E	E	E	E	E	E	E	E	E
F	F	F	F	F	F	F	F	F	F
G	G	G	G	G	G	G	G	G	G
G	G	G	G	G	G	G	G	G	G
H	H	H	H	H	H	H	H	H	H
I	I	I	I	I	I	I	I	I	I
I	I	I	I	I	I	I	I	I	I
J	J	J	J	J	J	J	J	J	J
K	K	K	K	K	K	K	K	K	K
L	L	L	L	L	L	L	L	L	L
M	M	M	M	M	M	M	M	M	M
N	N	N	N	N	N	N	N	N	N
O	O	O	O	O	O	O	O	O	O
O	O	O	O	O	O	O	O	O	O
P	P	P	P	P	P	P	P	P	P
R	R	R	R	R	R	R	R	R	R
R	R	R	R	R	R	R	R	R	R
S	S	S	S	S	S	S	S	S	S
S	S	S	S	S	S	S	S	S	S
T	T	T	T	T	T	T	T	T	T
U	U	U	U	U	U	U	U	U	U
Ü	Ü	Ü	Ü	Ü	Ü	Ü	Ü	Ü	Ü
V	V	V	V	V	V	V	V	V	V
Y	Y	Y	Y	Y	Y	Y	Y	Y	Y
Z	Z	Z	Z	Z	Z	Z	Z	Z	Z

TÜRKÇE

MATEMATİK

FEN BİLİMLERİ SOSYAL BİLGİLER

İNGİLİZCE

1	A	B	C	D
2	A	B	C	D
3	A	B	C	D
4	A	B	C	D
5	A	B	C	D
6	A	B	C	D
7	A	B	C	D
8	A	B	C	D
9	A	B	C	D
10	A	B	C	D

1	A	B	C	D
2	A	B	C	D
3	A	B	C	D
4	A	B	C	D
5	A	B	C	D
6	A	B	C	D
7	A	B	C	D
8	A	B	C	D
9	A	B	C	D
10	A	B	C	D

1	A	B	C	D
2	A	B	C	D
3	A	B	C	D
4	A	B	C	D
5	A	B	C	D
6	A	B	C	D
7	A	B	C	D
8	A	B	C	D
9	A	B	C	D
10	A	B	C	D

1	A	B	C	D
2	A	B	C	D
3	A	B	C	D
4	A	B	C	D
5	A	B	C	D
6	A	B	C	D
7	A	B	C	D
8	A	B	C	D
9	A	B	C	D
10	A	B	C	D

1	A	B	C	D
2	A	B	C	D
3	A	B	C	D
4	A	B	C	D
5	A	B	C	D
6	A	B	C	D
7	A	B	C	D
8	A	B	C	D
9	A	B	C	D
10	A	B	C	D